

















































































Money

Name: _____

Date: _____

Write the correct comparison symbol (<, >, or =) in each box.




















1)					<input type="text" value="<"/>				
2)					<input type="text"/>				
3)					<input type="text"/>				
4)					<input type="text"/>				
5)					<input type="text"/>				
6)					<input type="text"/>				
7)					<input type="text"/>				
8)					<input type="text"/>				
9)					<input type="text"/>				
10)					<input type="text"/>				

Money

Name: _____

Date: _____

Write the correct comparison symbol (<, >, or =) in each box.

1)		<input type="text" value="<"/>	
2)		<input type="text" value=">"/>	
3)		<input type="text" value="<"/>	
4)		<input type="text" value=">"/>	
5)		<input "="" type="text" value="="/>	
6)		<input type="text" value="<"/>	
7)		<input type="text" value=">"/>	
8)		<input type="text" value="<"/>	
9)		<input type="text" value="<"/>	
10)		<input type="text" value=">"/>	