

Counting Money

Name: _____

Date: _____

Draw the line to the correct amount.

1)  1.15 \$
3.52 \$
1.2 \$
3.18 \$

2)  32.55 \$
6.14 \$
3.16 \$
1.20 \$

3)  2.78 \$
1.29 \$
3.03 \$
1.62 \$

4)  4.42 \$
6.30 \$
3.10 \$
2.60 \$

5)  2.04 \$
32.60 \$
1.55 \$
1.74 \$

6)  1.90 \$
2.20 \$
5.80 \$
1.26 \$

7)  15.17 \$
1.20 \$
1.18 \$
3.33 \$

8)  4.18 \$
6.19 \$
5.10 \$
11.75 \$

9)  2.10 \$
2.38 \$
1.07 \$
3.75 \$


10)  2.26 \$
2.11 \$
10.60 \$
3.01 \$


Counting Money


Name: _____


Date: _____


Draw the line to the correct amount.


1)  1.15 \$
3.52 \$
1.2 \$
3.18 \$


2)  32.55 \$
6.14 \$
3.16 \$
1.20 \$


3)  2.78 \$
1.29 \$
3.03 \$
1.62 \$


4)  4.42 \$
6.30 \$
3.10 \$
2.60 \$


5)  2.04 \$
32.60 \$
1.55 \$
1.74 \$

6)  1.90 \$
2.20 \$
5.80 \$
1.26 \$

7)  15.17 \$
1.20 \$
1.18 \$
3.33 \$

8)  4.18 \$
6.19 \$
5.10 \$
11.75 \$

9)  2.10 \$
2.38 \$
1.07 \$
3.75 \$

10)  2.26 \$
2.11 \$
10.60 \$
3.01 \$