

Counting Money

Name: _____


Date: _____

Draw the line to the correct amount.


1)  18 ¢
36 ¢
55 ¢
41 ¢

2)  51 ¢
23 ¢
29 ¢
50 ¢


3)  34 ¢
51 ¢
61 ¢
32 ¢


4)  20 ¢
16 ¢
26 ¢
42 ¢

5)  13 ¢
10 ¢
4 ¢
6 ¢

6)  42 ¢
13 ¢
8 ¢
11 ¢

7)  10 ¢
13 ¢
26 ¢
28 ¢

8)  33 ¢
27 ¢
19 ¢
5 ¢

9)  8 ¢
32 ¢
21 ¢
29 ¢


10)  11 ¢
24 ¢
31 ¢
13 ¢


Counting Money


Name: _____


Date: _____


Draw the line to the correct amount.


1)  18 ¢
36 ¢
55 ¢
41 ¢


2)  51 ¢
23 ¢
29 ¢
50 ¢


3)  34 ¢
51 ¢
61 ¢
32 ¢


4)  20 ¢
16 ¢
26 ¢
42 ¢


5)  13 ¢
10 ¢
4 ¢
6 ¢

6)  42 ¢
13 ¢
8 ¢
11 ¢

7)  10 ¢
13 ¢
26 ¢
28 ¢

8)  33 ¢
27 ¢
19 ¢
5 ¢

9)  8 ¢
32 ¢
21 ¢
29 ¢

10)  11 ¢
24 ¢
31 ¢
13 ¢