

# Counting Money

Name: \_\_\_\_\_


Date: \_\_\_\_\_


Draw the line to the correct amount.

1)  78 ¢  
52 ¢  
15 ¢  
36 ¢

2)  31 ¢  
24 ¢  
19 ¢  
61 ¢


3)  14 ¢  
24 ¢  
31 ¢  
45 ¢

4)  55 ¢  
40 ¢  
30 ¢  
35 ¢


5)  7 ¢  
45 ¢  
32 ¢  
21 ¢

6)  3 ¢  
4 ¢  
10 ¢  
13 ¢

7)  11 ¢  
42 ¢  
37 ¢  
17 ¢

8)  13 ¢  
41 ¢  
21 ¢  
25 ¢

9)  63 ¢  
12 ¢  
47 ¢  
23 ¢


10)  20 ¢  
30 ¢  
17 ¢  
27 ¢


# Counting Money


Name: \_\_\_\_\_


Date: \_\_\_\_\_


Draw the line to the correct amount.


1)  78 ¢  
52 ¢  
15 ¢  
36 ¢


2)  31 ¢  
24 ¢  
19 ¢  
61 ¢


3)  14 ¢  
24 ¢  
31 ¢  
45 ¢


4)  55 ¢  
40 ¢  
30 ¢  
35 ¢


5)  7 ¢  
45 ¢  
32 ¢  
21 ¢

6)  3 ¢  
4 ¢  
10 ¢  
13 ¢

7)  11 ¢  
42 ¢  
37 ¢  
17 ¢

8)  13 ¢  
41 ¢  
21 ¢  
25 ¢

9)  63 ¢  
12 ¢  
47 ¢  
23 ¢

10)  20 ¢  
30 ¢  
17 ¢  
27 ¢