

# Counting Money

Name: \_\_\_\_\_

Date: \_\_\_\_\_


Draw the line to the correct amount.

1)  34 \$  
 23 \$  
 12 \$  
 29 \$


2)  47 \$  
 43 \$  
 36 \$  
 29 \$

3)  18 \$  
 29 \$  
 63 \$  
 32 \$

4)  42 \$  
 30 \$  
 10 \$  
 76 \$


5)  34 \$  
 11 \$  
 55 \$  
 23 \$

6)  37 \$  
 13 \$  
 52 \$  
 38 \$

7)  33 \$  
 23 \$  
 6 \$  
 17 \$

8)  24 \$  
 26 \$  
 32 \$  
 4 \$

9)  25 \$  
 18 \$  
 27 \$  
 13 \$


10)  37 \$  
 26 \$  
 41 \$  
 15 \$


# Counting Money


Name: \_\_\_\_\_


Date: \_\_\_\_\_


Draw the line to the correct amount.


1)  34 \$  
23 \$  
12 \$  
29 \$


2)  47 \$  
43 \$  
36 \$  
29 \$


3)  18 \$  
29 \$  
63 \$  
32 \$


4)  42 \$  
30 \$  
10 \$  
76 \$


5)  34 \$  
11 \$  
55 \$  
23 \$

6)  37 \$  
13 \$  
52 \$  
38 \$

7)  33 \$  
23 \$  
6 \$  
17 \$

8)  24 \$  
26 \$  
32 \$  
4 \$

9)  25 \$  
18 \$  
27 \$  
13 \$

10)  37 \$  
26 \$  
41 \$  
15 \$