


Counting Money


Name: _____

Date: _____


Draw the line to the correct amount.

1)  15 \$
 23 \$
 42 \$
 29 \$

2)  17 \$
 54 \$
 26 \$
 51 \$

3)  18 \$
 49 \$
 28 \$
 35 \$

4)  27 \$
 10 \$
 29 \$
 24 \$


5)  14 \$
 10 \$
 5 \$
 4 \$

6)  30 \$
 22 \$
 40 \$
 12 \$

7)  14 \$
 28 \$
 44 \$
 23 \$

8)  18 \$
 19 \$
 10 \$
 20 \$

9)  10 \$
 18 \$
 27 \$
 30 \$


10)  25 \$
 28 \$
 67 \$
 32 \$


Counting Money


Name: _____


Date: _____


Draw the line to the correct amount.


1)  15 \$
23 \$
42 \$
29 \$


2)  17 \$
54 \$
26 \$
51 \$


3)  18 \$
49 \$
28 \$
35 \$


4)  27 \$
10 \$
29 \$
24 \$


5)  14 \$
10 \$
5 \$
4 \$

6)  30 \$
22 \$
40 \$
12 \$

7)  14 \$
28 \$
44 \$
23 \$

8)  18 \$
19 \$
10 \$
20 \$

9)  10 \$
18 \$
27 \$
30 \$

10)  25 \$
28 \$
67 \$
32 \$