

# Money

Name: \_\_\_\_\_

Date: \_\_\_\_\_

Write the correct comparison symbol (<, >, or =) in each box.

1)



2)



3)



4)



5)



6)



7)



8)



9)



10)






















# Money

Name: \_\_\_\_\_

Date: \_\_\_\_\_

Write the correct comparison symbol (<, >, or =) in each box.

1)		<input type="text" value="&gt;"/>	
2)		<input type="text" value="&lt;"/>	
3)		<input type="text" value="&lt;"/>	
4)		<input type="text" value="&lt;"/>	
5)		<input type="text" value="&gt;"/>	
6)		<input type="text" value="&gt;"/>	
7)		<input "="" type="text" value="="/>	
8)		<input type="text" value="&lt;"/>	
9)		<input type="text" value="&lt;"/>	
10)		<input type="text" value="&lt;"/>	