


Counting Money

Name: _____


Date: _____

Draw the line to the correct amount.

1)  8 ¢
6 ¢
5 ¢
10 ¢

2)  1 ¢
3 ¢
9 ¢
2 ¢

3)  20 ¢
16 ¢
15 ¢
23 ¢


4)  15 ¢
10 ¢
30 ¢
50 ¢

5)  9 ¢
5 ¢
32 ¢
1 ¢

6)  44 ¢
22 ¢
66 ¢
33 ¢

7)  18 ¢
6 ¢
10 ¢
20 ¢

8)  33 ¢
27 ¢
8 ¢
5 ¢

9)  11 ¢
23 ¢
12 ¢
15 ¢


10)  20 ¢
18 ¢
23 ¢
16 ¢


Counting Money


Name: _____


Date: _____


Draw the line to the correct amount.


1)  8 ¢
6 ¢
5 ¢
10 ¢


2)  1 ¢
3 ¢
9 ¢
2 ¢


3)  20 ¢
16 ¢
15 ¢
23 ¢


4)  15 ¢
10 ¢
30 ¢
50 ¢


5)  9 ¢
5 ¢
32 ¢
1 ¢

6)  44 ¢
22 ¢
66 ¢
33 ¢

7)  18 ¢
6 ¢
10 ¢
20 ¢

8)  33 ¢
27 ¢
8 ¢
5 ¢

9)  11 ¢
23 ¢
12 ¢
15 ¢

10)  20 ¢
18 ¢
23 ¢
16 ¢