

Counting Money

Name: _____

Date: _____

Draw the line to the correct amount.

1)  28 ¢
16 ¢
33 ¢
18 ¢


2)  41 ¢
33 ¢
29 ¢
42 ¢

3)  62 ¢
20 ¢
51 ¢
8 ¢

4)  22 ¢
14 ¢
75 ¢
35 ¢

5)  7 ¢
22 ¢
2 ¢
3 ¢

6)  17 ¢
4 ¢
36 ¢
18 ¢

7)  24 ¢
12 ¢
19 ¢
5 ¢

8)  8 ¢
2 ¢
10 ¢
3 ¢

9)  7 ¢
32 ¢
12 ¢
35 ¢


10)  40 ¢
5 ¢
62 ¢
25 ¢


Counting Money


Name: _____


Date: _____


Draw the line to the correct amount.


1)  28 ¢
16 ¢
33 ¢
18 ¢


2)  41 ¢
33 ¢
29 ¢
42 ¢


3)  62 ¢
20 ¢
51 ¢
8 ¢


4)  22 ¢
14 ¢
75 ¢
35 ¢


5)  7 ¢
22 ¢
2 ¢
3 ¢

6)  17 ¢
4 ¢
36 ¢
18 ¢

7)  24 ¢
12 ¢
19 ¢
5 ¢

8)  8 ¢
2 ¢
10 ¢
3 ¢

9)  7 ¢
32 ¢
12 ¢
35 ¢

10)  40 ¢
5 ¢
62 ¢
25 ¢