

Counting Money


Name: _____

Date: _____


Draw the line to the correct amount.

1)  4.55 \$
1.23 \$
3.02 \$
10.75 \$

2)  22.18 \$
14.36 \$
16.05 \$
23.70 \$

3)  1.68 \$
6.01 \$
3.43 \$
6.22 \$

4)  14.42 \$
4.38 \$
5.79 \$
26.30 \$

5)  5.13 \$
6.10 \$
23.02 \$
3.14 \$

6)  10.10 \$
6.37 \$
45.10 \$
49.02 \$

7)  9.62 \$
6.38 \$
16.18 \$
31.30 \$

8)  5.14 \$
6.92 \$
10.60 \$
6.38 \$

9)  6.92 \$
1.28 \$
7.50 \$
6.33 \$


10)  6.26 \$
21.75 \$
20.37 \$
6.32 \$


Counting Money


Name: _____


Date: _____


Draw the line to the correct amount.


1)  4.55 \$
1.23 \$
3.02 \$
10.75 \$


2)  22.18 \$
14.36 \$
16.05 \$
23.70 \$


3)  1.68 \$
6.01 \$
3.43 \$
6.22 \$


4)  14.42 \$
4.38 \$
5.79 \$
26.30 \$

5)  5.13 \$
6.10 \$
23.02 \$
3.14 \$

6)  10.10 \$
6.37 \$
45.10 \$
49.02 \$

7)  9.62 \$
6.38 \$
16.18 \$
31.30 \$

8)  5.14 \$
6.92 \$
10.60 \$
6.38 \$

9)  6.92 \$
1.28 \$
7.50 \$
6.33 \$

10)  6.26 \$
21.75 \$
20.37 \$
6.32 \$