

Counting Money


Name: _____


Date: _____

Draw the line to the correct amount.

1) 18 ¢
 56 ¢
25 ¢
72 ¢

2) 52 ¢
 13 ¢
39 ¢
22 ¢

3) 44 ¢
 16 ¢
10 ¢
24 ¢

4) 43 ¢
 18 ¢
20 ¢
38 ¢

5) 29 ¢
 55 ¢
23 ¢
11 ¢

6) 40 ¢
 19 ¢
16 ¢
8 ¢

7) 25 ¢
 16 ¢
43 ¢
61 ¢

8) 14 ¢
 22 ¢
19 ¢
25 ¢

9) 10 ¢
 23 ¢
60 ¢
45 ¢


10) 63 ¢
 26 ¢
27 ¢
56 ¢


Counting Money


Name: _____


Date: _____


Draw the line to the correct amount.


1)  18 ¢
56 ¢
25 ¢
72 ¢


2)  52 ¢
13 ¢
39 ¢
22 ¢


3)  44 ¢
16 ¢
10 ¢
24 ¢


4)  43 ¢
18 ¢
20 ¢
38 ¢


5)  29 ¢
55 ¢
23 ¢
11 ¢

6)  40 ¢
19 ¢
16 ¢
8 ¢

7)  25 ¢
16 ¢
43 ¢
61 ¢

8)  14 ¢
22 ¢
19 ¢
25 ¢

9)  10 ¢
23 ¢
60 ¢
45 ¢

10)  63 ¢
26 ¢
27 ¢
56 ¢