

Counting Money


Name: _____


Date: _____

Draw the line to the correct amount.

1)  80 \$
13 \$
22 \$
39 \$

2)  22 \$
54 \$
18 \$
29 \$

3)  58 \$
49 \$
13 \$
46 \$


4)  22 \$
48 \$
79 \$
62 \$


5)  39 \$
8 \$
26 \$
47 \$

6)  30 \$
10 \$
15 \$
11 \$

7)  60 \$
48 \$
38 \$
63 \$

8)  78 \$
49 \$
10 \$
36 \$

9)  8 \$
22 \$
29 \$
40 \$


10)  60 \$
43 \$
27 \$
50 \$


Counting Money


Name: _____


Date: _____

Draw the line to the correct amount.


1)  80 \$
13 \$
22 \$
39 \$


2)  22 \$
54 \$
18 \$
29 \$


3)  58 \$
49 \$
13 \$
46 \$


4)  22 \$
48 \$
79 \$
62 \$


5)  39 \$
8 \$
26 \$
47 \$

6)  30 \$
10 \$
15 \$
11 \$

7)  60 \$
48 \$
38 \$
63 \$

8)  78 \$
49 \$
10 \$
36 \$

9)  8 \$
22 \$
29 \$
40 \$

10)  60 \$
43 \$
27 \$
50 \$